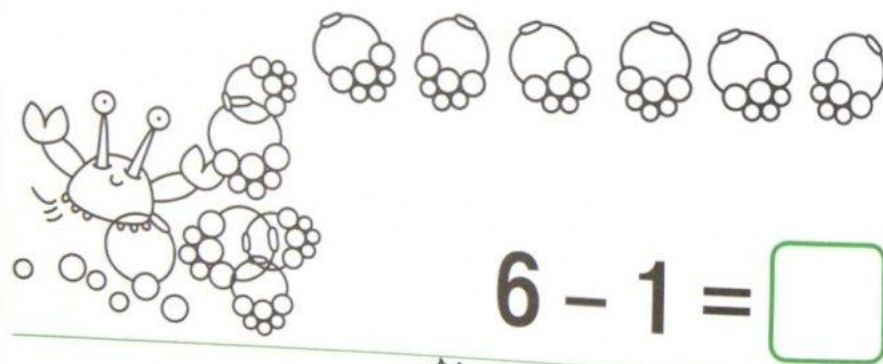


Составление и решение задач в пределах 8



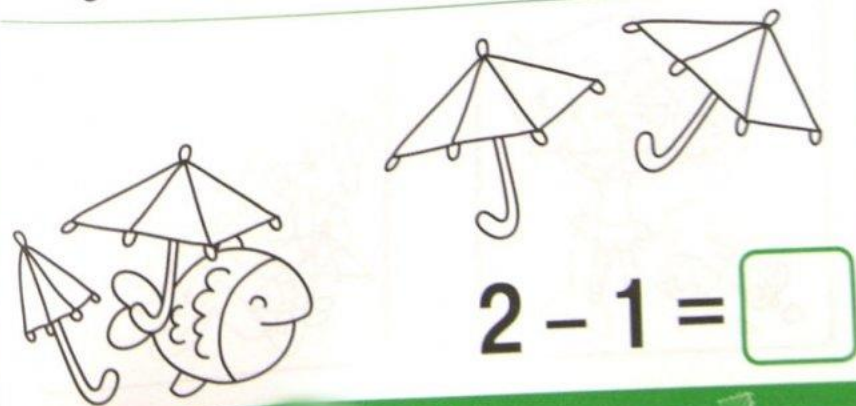
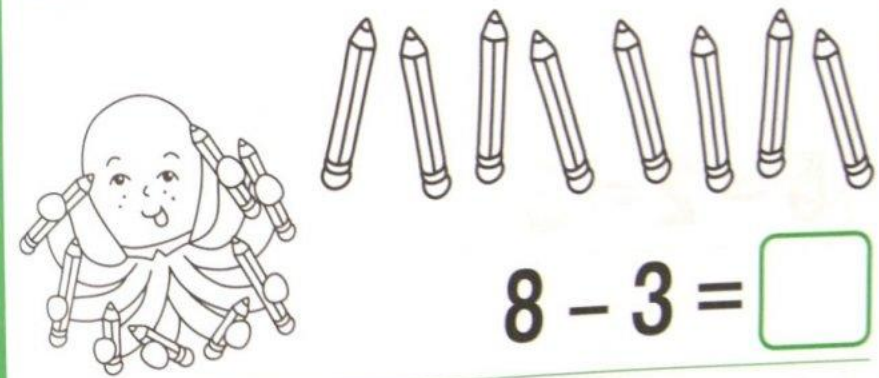
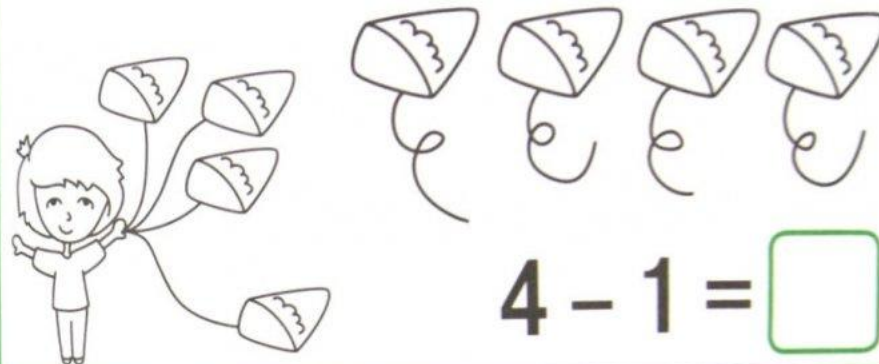
Вычитание

Рассмотри картинки. Зачеркни нужное число предметов и запиши ответы в рамки.



Вычитание

Рассмотри картинки. Зачеркни нужное число предметов и запиши ответы в рамки.



- 1 Запиши пропущенные числа в том порядке, как они идут при счёте.

1, □, 3, 4, □, □, 7, □, 9, 10

- 2 Вставь пропущенные числа.

$4 + \square = 5$

$8 - \square = 7$

$7 + \square = 8$

$6 + 1 = \square$

$\square - 1 = 4$

$9 - \square = 8$


$\square - 1 = 2$

$6 - \square = 5$

$\square - 1 = 3$

- 3 Что изменилось? Запиши это, используя цифры и знаки +, -, =.

Было



Стало



□ □ □ □ □