

Математика 3 февраля

1. Сравни числа, поставь знаки $>$ $<$ $=$

$4 \dots 0$

$1 \dots 4$

$1 \dots 3$

$2 \dots 3$


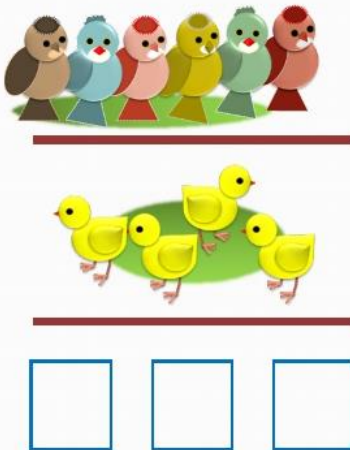
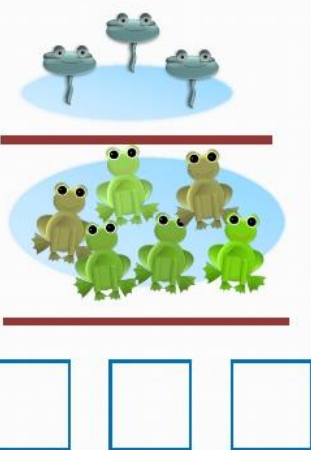
$4 \dots 2$

$1 \dots 3$

$0 \dots 2$

$4 \dots 4$

2. Посчитай, запиши в пустые клетки количество и сравни.

| | | |
|--|---|--|
|  |  |  |
|--|---|--|

3. В тетради напиши дату и выполни из учебника № 14 на стр 18